



**XL OGÓLNOPOLSKI MŁODZIEŻOWY TURNIEJ
TURYSTYCZNO - KRAJOZNAWCZY PTTK
Finał Centralny
ŚWIERADÓW ZDRÓJ 31 MAJA - 3 CZERWCA 2012 R.**



**KONKURS KOLARSKI TOR PRZESKÓD
TEST Z PRZEPISÓW RUCHU DROGOWEGO
SZKOŁY GIMNAZJALNE**

Imię i Nazwisko.....

Województwo

Szkoła-Koło

Uwaga test wielokrotnego wyboru. W pytaniach może być jedna lub więcej prawidłowych odpowiedzi.

1. Do obowiązkowego wyposażenia roweru zaliczamy:

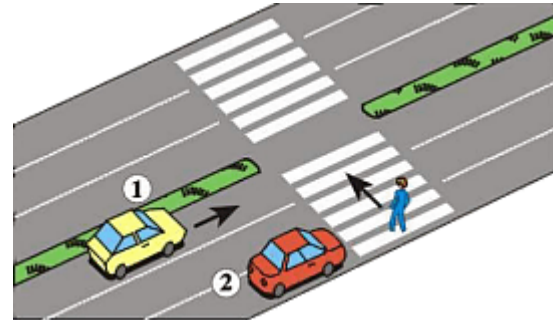
- a) dzwonek lub inny sygnał ostrzegawczy o nieprzerażliwym dźwięku,
- b) co najmniej dwa skutecznie działające hamulce,
- c) bagażnik.

2. Liczba rowerów jednośladowych jadących w zorganizowanej kolumnie nie może przekraczać:

- a) 5,
- b) 10,
- c) 15.

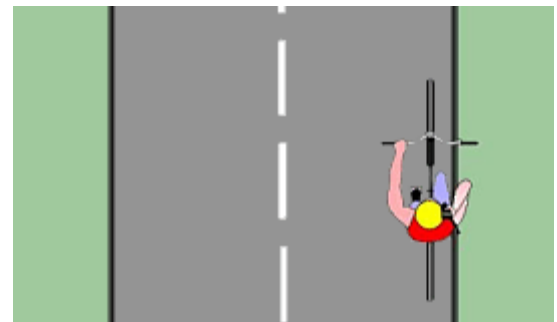
3. W tej sytuacji:

- a) pieszy powinien zatrzymać się,
- b) kierujący pojazdem 1 nie może wyprzedzić,
- c) pierwszeństwo ma pieszy.



4. Przedstawiony na rysunku rowerzysta postępuje:

- a) prawidłowo, gdyż zakaz prowadzenia rozmów przez telefon podczas jazdy dotyczy tylko kierujących samochodami,
- b) prawidłowo, gdyż trzyma jedną rękę na kierownicy,
- c) niezgodnie z obowiązującymi przepisami.



5. Kierujący samochodem osobowym może przewozić osoby w liczbie;


- a) Nie przekraczającej liczby miejsc określonych w dowodzie rejestracyjnym
- b) Większej o jeden od liczby miejsc określonych w dowodzie rejestracyjnym
- c) Niezależnej od liczby miejsc określonej w dowodzie rejestracyjnym

6. Rowerzysta może poruszać się po chodniku, gdy:

- a) chodnik ma przynajmniej 2m szerokości,
- b) ustępuje pierwszeństwa pieszym,
- c) dozwolona prędkość na jezdni nie przekracza 50 km/h

7. W tej sytuacji kierujący pojazdem;

- a) Nie ma obowiązku upewnienia się, czy nadjeżdża pociąg
- b) Powinien zachować szczególną ostrożność
- c) Powinien obserwować tylko prawą stronę drogi



8. W tej sytuacji jazda prosto tym pojazdem jest;

- a) Prawidłowa , gdyż na jezdni nie ma innych pojazdów
- b) Prawidłowa, gdyż dopuszcza się zajmowanie dwóch pasów ruchu
- c) Nieprawidłowe



9. Który z tych znaków zabrania wjazdu rowerem?

a)



b)



c)



10. Opisz znak:

